


Aşağıdaki nesnelere hangi ölçü birimi ile ölçülürse o bölümü sarıya boyayınız.




Kilogram
Gram


ayakkabı



Kilogram
Gram




Kilogram
Gram



Kilogram
Gram



Kilogram
Gram




Kilogram
Gram




Kilogram
Gram

elma




Kilogram
Gram



Kilogram
Gram

muz



Kilogram
Gram



Kilogram
Gram



Kilogram
Gram

top



Kilogram
Gram




Kilogram
Gram



Kilogram
Gram



Kilogram
Gram



Kilogram
Gram



Kilogram
Gram



Kilogram
Gram



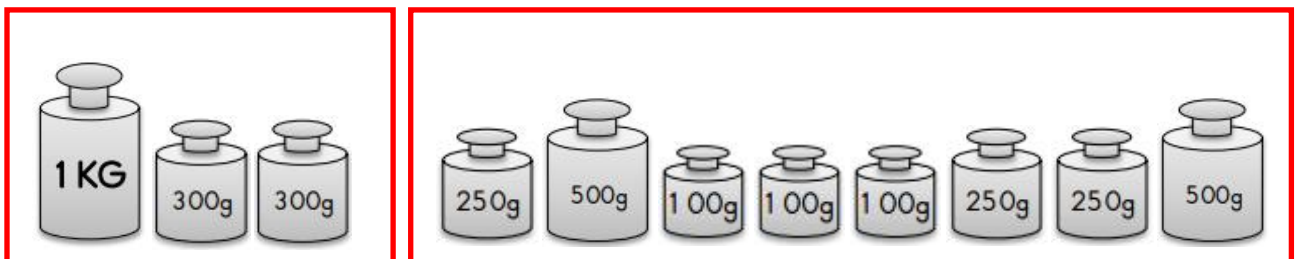


Kilogram
Gram

Kütle ölçü birimi kilogramdır. Kilogram kısaca "kg." ile gösterilir. 1 kg dan az olan miktarları ölçmek için gram kullanılır. Gram kısaca "g." ile gösterilir.
1 kg = 1 000g








Kütle ölçme araçları = eşit kollu terazi, baskül, kantar, elektronik tartılar vb.

Aşağıda baştaki ağırlık ile eşitliği sağlayacak kadarını yuvarlak içine alınız.



200

Aşağıdaki ağırlıkları örnekteki gibi ölçünüz.

					
1 500 g	1 tane	1 tane			
3 250 g					
5 kg					
2 500 g					
3 700 g					
6 800 g					
7 400 g					
1 350 g					
4 500 g					
6 850 g					
5 900 g					

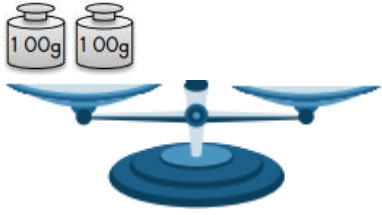
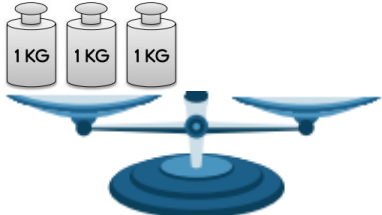
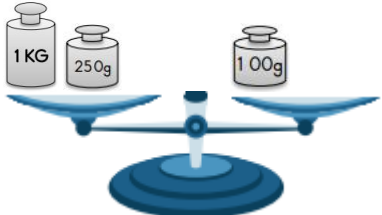
201

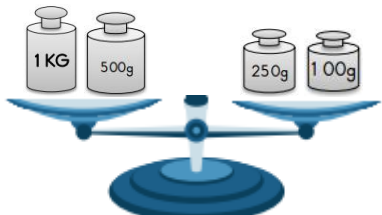
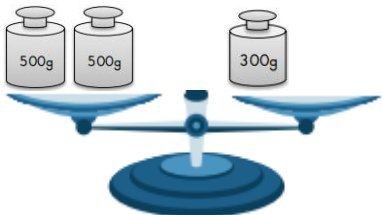
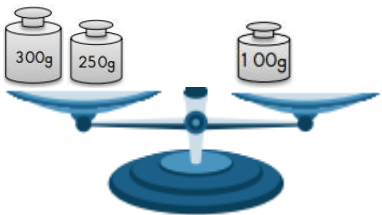
Aşağıdaki çevirmeleri yapınız.

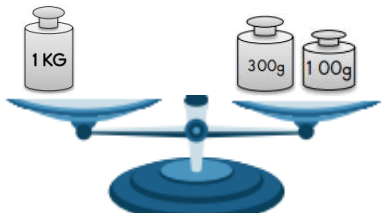
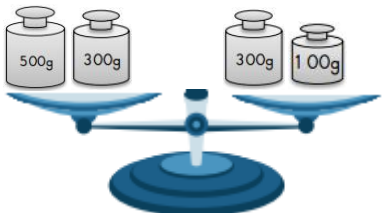
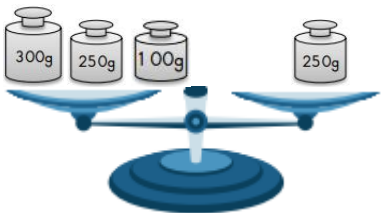
2kg =g
5kg =g
3000g =kg
1 2000g =kg
2350g =kgg
7700g =kgg
2kg 350g =g
4kg 500g =g


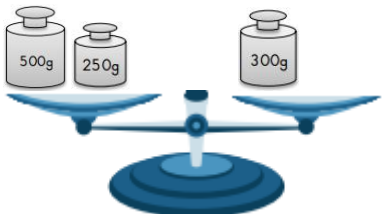
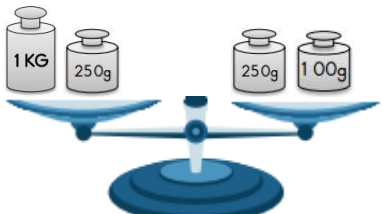
2 tane 250g + 500g =g
4 tane 500g + 1 kg =kg
2 tane 250g + 500g + 1 kg =kg
2 tane 1 kg + 4 tane 500g =kg
81 50g =kgg
11 300g =kgg
1 2kg 200g =g
6kg 750g =g

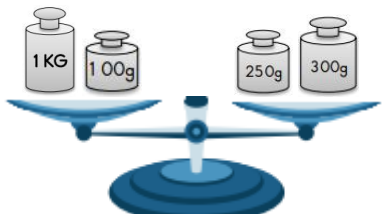
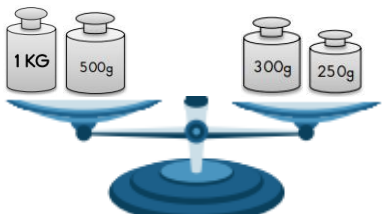
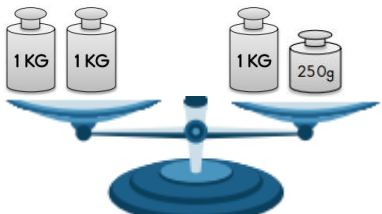
Terazilerin dengede kalması için diğer kefeye kaç kg ya da gr konmalıdır?





Aşağıdaki problemleri verilenlere göre çözünüz.

			
---	---	--	---

Kirpi kaç kg dir?	Baykuş kaç kg dir?
Tilki kaç kg dir?	Tavşan kaç kg dir?

203

Ağırlıkları verilen ürünler ile ilgili soruları cevaplayınız.

			
---	---	--	---

3 patlıcan, 7 şeftali kaç kg gelir?	5 muz, 6 çilek kaç kg gelir?
4 şeftali, 6 patlıcan kaç kg gelir?	7 çilek, 8 patlıcan kaç kg gelir?

Aşağıdaki problemleri çözünüz.

Ayşe, Sena ve Ezgi toplam 1 27kg gelmektedir. Ayşe 38kg, Sena 42kg olduğuna göre Ezgi kaç kg gelmektedir?

Bahçemizden 1 75kg kiraz, 47kg elma, 1 1 4kg erik topladım. Toplam kaç kg meyve toplamışım?

Bir manav halden 31 7kg soğan, 1 56kg patates, 54kg patlıcan almıştır. Bu manav toplam kaç kg sebze almıştır.




Her biri 1 35 gram gelen portakallardan 5 tane alırsam kaç gram almış olurum?


Pazar arabamda 25kg elma, 45kg armut, 37kg patates vardır. Pazar arabamda toplam kaç kg meyve sebze vardır?



Yandaki kitaplardan her biri 1 25g gelmektedir. Yanda toplam kaç gram kitap vardır?



Yandaki ördeklerin ağırlığı sırayla 455g ve 537g ise ağırlıkları toplamı ne eder?



Her keçi 1 26kg dır. 6 keçinin toplam ağırlığı kaç kg dır?

Melis 23kg dır. Babası Melis'in 3 katı ağırlığında olduğuna göre. İkisinin ağırlığı toplamı kaç kg dır?



Ali 1 3kg gelmekte. Annesi Ali'nin 3 katı gelmekte. Babası da annesinden 1 7kg fazladır. Ali'nin babası kaç kg dır?